

La « statue du cheval » : un monument à la gloire des Chalonnais

Dossier enseignant

Un monument

Les **monuments commémoratifs** sont particulièrement importants dans l'histoire d'une ville. Ils rappellent des événements ou des personnages dont on veut glorifier le souvenir.

A Chalon-sur-Saône se dressent ainsi les statues de personnages illustres tels le Docteur Mauchamp, Nicéphore Niépce, Chabas ou des monuments à la mémoire des soldats morts pendant les conflits. Le Monument de la Défense (plus connu sous le nom de statue du cheval) en est également un exemple.

En 1900, le projet d'un monument à la **mémoire des soldats morts pour la Patrie en 1870** est lancé. L'idée de lui associer le **souvenir de la défense de la Ville en 1814** est rapidement évoquée. Le monument célébrera donc les deux événements.

Un coût

Pour édifier un tel monument, il faut nécessairement de l'argent.

Le coût est évalué à 20 000F. Des souscriptions publiques (appel aux dons) sont mises en place : c'est ainsi que des communes participent aux frais ainsi que diverses sociétés. Tous les moyens sont bons pour récupérer de l'argent : demandes de subventions auprès du Conseil municipal, du Conseil général, du Ministère des Beaux Arts, organisation de bals, concerts, loteries, service de souscription à domicile

Extrait de la séance du conseil municipal du 20 octobre 1906

« Maintenant, chers concitoyens, permettez-moi de faire appel à votre zèle et à votre dévouement. Des listes de souscriptions seront mises prochainement à votre disposition ; nous vous prions de faire une propagande active pour le succès de notre œuvre.

Dites bien à toutes les personnes dont nous sollicitons le concours que notre but est essentiellement patriotique. Notre œuvre est et restera étrangère à toute préoccupation politique ou religieuse ; nous sommes unis par un seul sentiment : l'amour de la patrie.[...]

Que chacun de vous se mette à l'œuvre ; nous comptons sur vous ».

Finalement, faute de ressources suffisantes, le comité d'exécution qui avait été chargé de la construction du monument doit abandonner. C'est la Ville de Chalon qui le reprend à son compte.

Une construction

Un concours est lancé pour la réalisation du projet. Une vingtaine de maquettes sont proposées.

Le jury porte son choix sur le **projet « 1814 » de l'architecte André Bérard associé au statuaire Paul Moreau-Vauthier**. L'œuvre représente une allégorie de la Ville de Chalon (sous la forme d'une femme) baisant le front d'un soldat mort, porté par un cuirassier à cheval.

L'emplacement est assez vite déterminé : ce sera sur « le terre-plein compris entre le Boulevard de la République et les rues d'Autun et Lamartine ». Il sera dénommé **Place de la République**.

Extrait du rapport du Comité sur le choix de l'emplacement, 20 mars 1902

« Cet emplacement, de proportion moyenne et suffisante pour l'importance du monument projeté, est situé sur le passage principal des voyageurs : le Monument qui pourra se détacher sur un rideau de verdure sera aperçu de loin en sortant de la gare et contribuera à l'ornementation de ce terre-plein en ce moment un peu nu. La plupart des inconvénients que l'on trouvait ailleurs n'existent pas à cet emplacement [...] »

Une inauguration

Sept ans après le lancement du projet, le **08 septembre 1907, le monument appelé monument de la Défense est enfin inauguré**. Cela donne lieu à une grande fête populaire dans Chalon : retraite aux flambeaux, bal populaire, fête nautique, illumination des quais, démonstration de gymnastes, défilé de sociétés, concerts.....Tout est mis en œuvre pour faire de ce moment un évènement inoubliable et magique, où le patriotisme est glorifié.

Pour les élèves

Fiche activité n° 1 – La construction de la statue du cheval

Fiche activité n° 2 – L'inauguration de la statue du cheval

Fiche activité n° 3 – La statue du cheval (mots fléchés)

Fiche activité n° 1 – La construction de la statue du cheval

Au centre-ville de Chalon se dresse un monument bien connu des habitants. Il commémore à la fois le **souvenir des soldats morts pour la Patrie en 1870** (guerre franco-prussienne sous Napoléon III) et celui de **la défense de Chalon en 1814**.

- Après avoir attentivement observé la photo suivante, peux-tu dire ce que représente le monument ?



- Parmi les quatre projets suivants, lequel a été retenu à ton avis ? Pourquoi?

.....

.....

.....



Projet A



Projet B



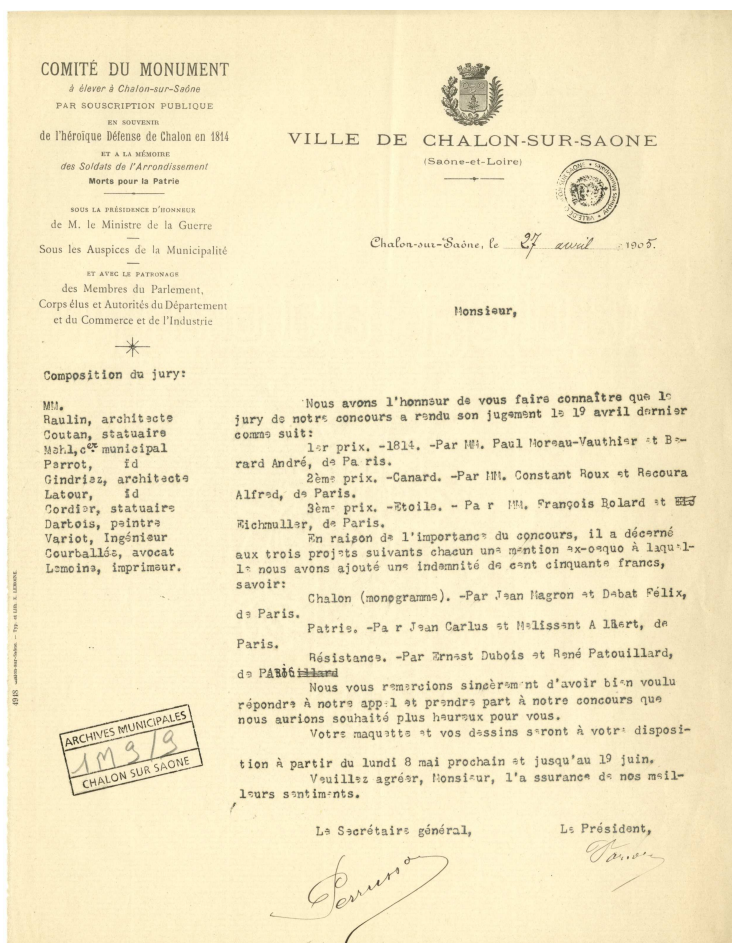
Projet C



Projet D

AMC 1M 9/9

Un concours entre artistes est lancé pour réaliser ce monument.



AMC
1M 9/9

Devise des projets	Architectes	Statuaires	Classement
1814	André Bérard—Paris	Paul Moreau-Vauthier—Paris	1er prix
Canard	Alfred Recoura—Paris	Constant Roux—Neuilly	2e prix
Etoile	VC Eichmüller—Paris	François Laurent Bolard—Paris	3e prix
Chalon	Félix Debat—Paris	Jean Magron—Paris	Mention
Patrie II	Albert Melissant—Paris	Jean Carlus—Seine	Mention
Résistance	René Patouillard-Demoriant—Paris	Ernest Dubois—Paris	Mention

■ Quel est le nom des auteurs du projet ayant remporté le concours ?

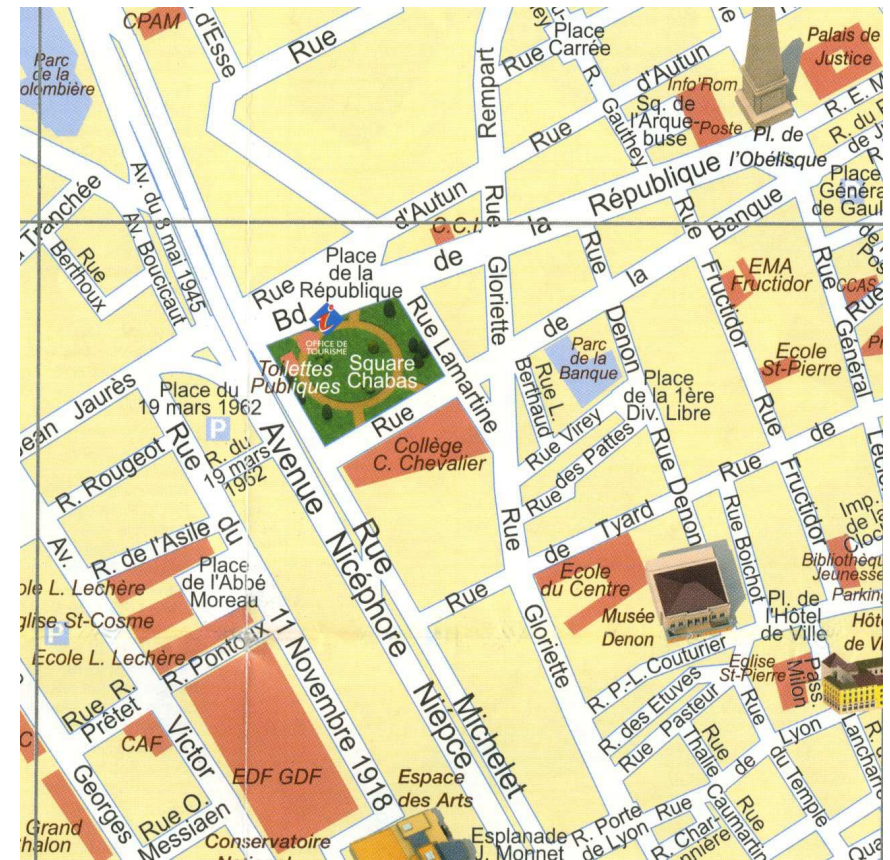
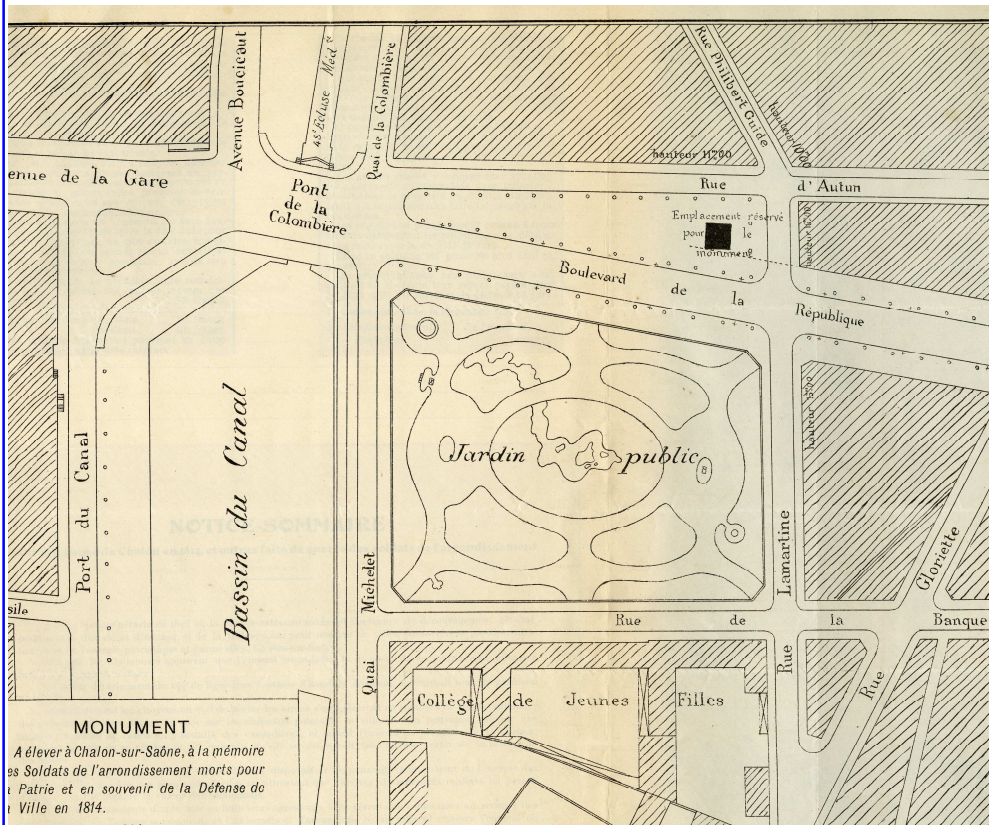
■ Quel est le nom du projet vainqueur ?

L'emplacement du monument

Avant de déterminer l'emplacement idéal pour ce monument, plusieurs lieux ont été visités. Finalement un seul a été retenu. D'après un extrait de la délibération du 20 octobre 1906, le monument sera « placé à l'entrée de la Ville, dans un cadre merveilleux, en face du square Chabas » et sera « le complément du magnifique quartier qui vient d'être créé ».

- Localise sur le plan suivant l'emplacement qui a été choisi. Comment s'appelle aujourd'hui cette place ? (indice : regarde sur le plan actuel de la ville)

AMC 1M 9/9



Dossier 1814—Fiche activité 1 : la statue du cheval

Fiche activité n° 2—L'inauguration de la statue du cheval



AMC- 30Fi 33

- D'après la carte postale suivante, à quelle date a été construit ce monument ?
-

- Quel est son véritable nom?
-

■ La carte postale ci-dessous représente les festivités qui ont eu lieu au moment de l'inauguration du monument le 8 septembre 1907. Deux indices te permettent de prouver que c'est bien le monument de la défense dont il est question. Lesquels ?



AMC - 6Fi 224

■ Dans quelle partie de la ville de Chalons se passe la scène?

Dossier 1814—Fiche activité 2 : la statue du cheval

Fiche activité n° 3—La statue du cheval

Et pour conclure,

■ A l'aide des définitions suivantes, complète les mots fléchés :

- 1 – Evènement du 08 septembre 1907
- 2 – Nom d'un des réalisateurs du projet choisi
- 3 – Monument élevé en mémoire des soldats morts pour la défendre
- 4 – Animal représenté par le monument
- 5 – Place sur laquelle est édifié le monument
- 6 – Nom du monument

